

Nama: _____

Kelas : _____

SULIT
Matematik
Kertas 2
Set 4/2001
40 minit

KERTAS MODEL
UJIAN PENCAPAIAN SEKOLAH RENDAH
PORTAL PENDIDIKAN UTUSAN 2001

MATEMATIK
Empat puluh minit

Arahan Am:

1. *Kertas soalan ini mengandungi 20 soalan. Jawab semua soalan.*
2. *Jawapan hendaklah ditulis pada ruang yang disediakan dalam kertas soalan.*
3. *Kerja mengira mesti ditunjukkan dengan jelas. Anda mungkin kehilangan markah jika langkah-langkah penting tidak ditunjukkan.*

01. $307 + 9869 =$

02. $5013 - 599 =$

03. $70 \times 316 =$

04. 1092 keping setem dikongsi sama banyak antara Zaini dan 6 orang rakannya. Berapakah keping setem setiap orang dapat?

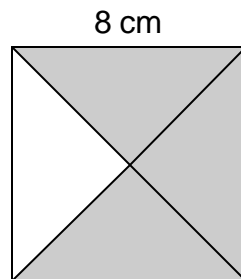
05. $\frac{2}{4} + \frac{1}{8} =$

06. $68.5 - 9.09 =$

07. $0.72 \div 9 =$

08. $476 \times 0.8 =$

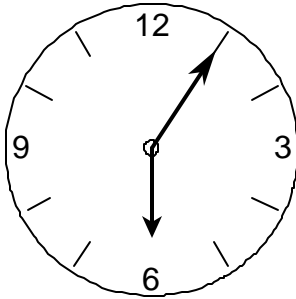
09.



Rajah di atas adalah sebuah segiempat sama. Hitungkan luas kawasan berlorek.

10.

$\frac{3}{4}$ jam selepas waktu yang ditunjukkan ialah pukul



11. Ciri-ciri pepejal

- a. 2 permukaan rata
- b. 1 permukaan melengkung

Berdasarkan ciri-ciri di atas lukis pepejal tersebut.

12.

RM 2.75

RM 1.75

RM 0.95

RM 0.05

Jumlahkan wang di atas.

13.

Penceramah

P	L	P	L	P	L	P	L	P	L
L	P	L	P	L	P	L	P	L	P
L	P	P	P	P	P	P	P	P	L

Petunjuk : L = Lelaki P=Perempuan

Rajah di atas menunjukkan pelan kedudukan peserta seminar UPSR.
Berapa peratuskah murid lelaki daripada jumlah peserta?

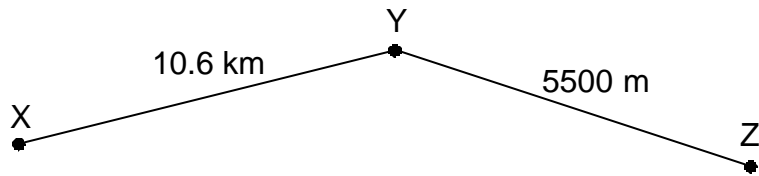
14. Tukarkan $9\frac{4}{100}$ kepada bentuk perpuluhan.

15.

Hari	Januari	Februari	Mac	April	Mei
Jumlah Buku	112	88	109	91	100

Jadual di atas menunjukkan bilangan buku yang dijual oleh sebuah kedai buku dalam 5 bulan tertentu. Cari jualan buku untuk sebulan.


16.



Berapa jarak dalam km, dari X ke Z berdasarkan rajah di atas?

17. Kirakan $\frac{2}{7}$ daripada 189 biji telur.

18.




Rajah di atas menunjukkan harga 3 batang pen. Hitungkan harga 8 batang pen yang sama.

19. Cari beza berat antara sekampit beras dan dua kampak gula pasir. Beri jawapan dalam kg.



-
20. Kirakan harga sepinggan mee, sebungkus nasi lemak dan dua cawan kopi.



RM 3.50



70 sen



RM 1.20

KERTAS SOALAN TAMAT

JAWAPAN KERTAS MODEL: SET 4/2001

1. 10176

2. 4414

3. 22120

4. 156

5. $\frac{5}{8}$


6. 59.41

7. 0.08

8. 380.8

9. 48

10. 6.50

11. 

12. 5.5

13. 40%

14. 9.04

15. 100

16. 16.1km

17. 54

18. RM21.60

19. 8.2kg

20. RM5.40